

中原大學推廣教育處辦理桃園市政府勞工學苑
企業 ESG 永續及財務管理培訓班-甄試筆試測驗

測驗日期：6/26

邏輯測驗(20 題)

(1)~(6)排序並選出多餘單字

- () 1. 將天大任於降責人也斯 (A)降(B)將(C)斯(D)責
- () 2. 不做明人作暗事(A)做 (B)作 (C)明 (D)人 (E)不
- () 3. 智義里為仁美不處仁擇得焉 (A)義 (B)仁 (C)擇 (D)焉 (E)智
- () 4. 利下上征交而國矣之危 (A)上 (B)交 (C)矣 (D)之 (E)危
- () 5. 秉遊燭夜蠟 (A)遊(B)蠟(C)夜(D)秉
- () 6. 笑來從人何處客問 (A)來(B)客(C)人(D)問(E)笑
- () 7. 下列 4 選項恰連成一句話，哪一選項不適合？
(A)這部電影頗負盛名(B)吸引眾人前來瞻仰(C)戲院門口(D)真是人山人海。
- () 8. 下列 4 選項恰連成一句話，哪一選項不適合？
(A)這位妙齡少女(B)面貌姣好(C)尤其身材(D)更是虎背熊腰。
- () 9. 下列 4 選項恰連成一句話，哪一選項不適合？
(A)國家音樂廳中(B)台上生旦淨末丑賣力演出(C)台下觀眾如癡如狂(D)真是精彩。
- () 10. 有一數列 1, 8, 27, _ , 125, 216。則空白處應填入下列何者？(A) 64 (B) 100 (C) 49 (D) 81
- () 11. ___之於止渴，好像畫餅之於___ (A)飲水…觀賞 (B)水果…評鑑 (C)望梅…充飢 (D)芒果…食
- () 12. 已知三角形的兩邊長為 8 公分及 12 公分，下列何者不可能為第三邊？
(A) 5 公分(B) 12 公分(C) 16 公分(D) 21 公分
- () 13. BA, DC, _ , HG, JI, LK (A)BC (B)ED (C)FE (D)EF (E)CB
- () 14. 某物品價格 1000 元，購買 1 個加稅後為 1006 元，則稅率為多少？(A)6% (B)0.4% (C)0.6% (D)0.3%。
- () 15. 鉛筆 6 支 13.5 元，則一打需多少錢？(A)40.5 元 (B)13.5 元 (C)27 元 (D)54 元
- () 16. 若 6 位老師分別為國文、英文、數學、音樂、體育、美勞等六科的老師，且已知數學老師在美勞老師的對面，體育老師坐在國文老師的右手邊，音樂老師坐在體育老師的對面。若孫老師是國文老師，則請問李老師是教什麼？(A)英文 (B)數學 (C)體育 (D)音樂
- () 17. _____之於喜悅，好像失敗之於_____ (A)成功/雀躍 (B)成功/沮喪 (C)沮喪/錯愕 (D)收穫/播種
- () 18. _____之於電風扇，好像火之於_____ (A)風/瓦斯爐 (B)風/電子鍋 (C)火/瓦斯爐 (D)火/電子鍋
- () 19. 本課程出席時數需逾幾小時課程且修業成績達 60 分合格者，始頒發結業證明？
(A) 39 (B) 45 (C) 54 (D) 41

() 20. 一群人排成一列，甲從左邊數過來是排第五位，從右邊數過來是排第七位。請問這群人有多少人？

- (A) 10 人 (B) 11 人 (C) 12 人 (D) 13 人

基礎題(5 題)請選出最適當答案

() 21. 節能減碳十大無悔措施中，冷氣應控溫在 (A) 22-24°C (B) 24-26°C (C) 26-28°C (D) 28-30°C。

() 22. 能源的種類可分成再生能源和非再生能源，請問下列何者為再生能源？ (A) 煤 (B) 水力 (C) 甲烷 (D) 石油。

() 23. 確保水質的安全衛生是誰的責任？ (A) 全民 (B) 自來水公司 (C) 工廠 (D) 政府。

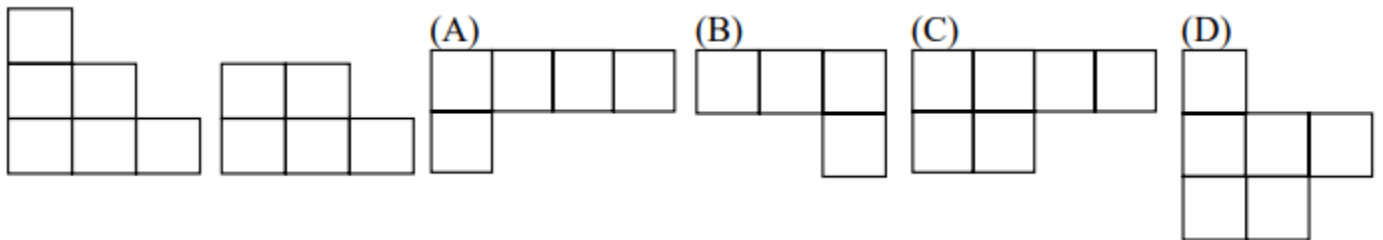
() 24. 沿海地區超抽地下水所引起的現象不包括下列何種現象？ (A) 地表土壤流失 (B) 地層下陷 (C) 海水倒灌 (D) 土質鹹化。

() 25. 下列何者發電方式主要增加二氧化碳的產生量？ (A) 太陽能發電 (B) 火力發電 (C) 風力發電 (D) 水力發電。

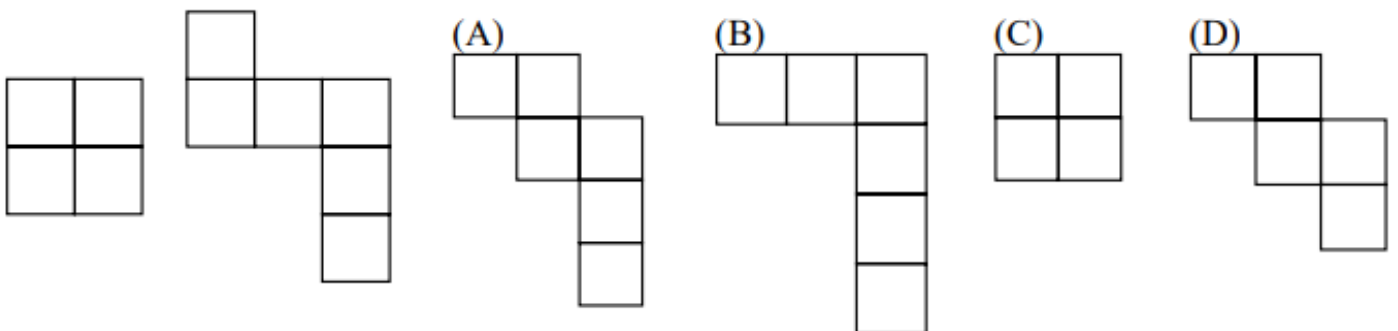
推理(5 題)

以下會有 5 道題目，請依照題目敘述作答。

() 26. 要拼成正方形，還須要加(A)、(B)、(C)、(D)中的哪一塊

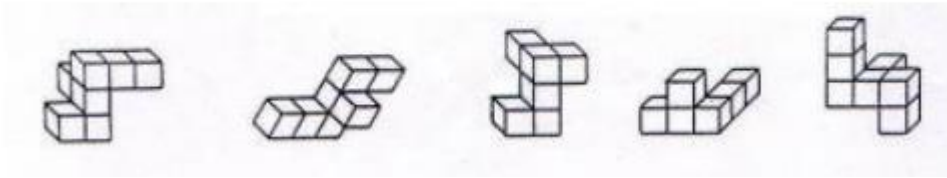


() 27. 要拼成正方形，還須要加(A)、(B)、(C)、(D)中的哪一塊



() 28. 選擇一個與左側標準圖相同的圖形。

(A) (B) (C) (D)



() 29. 選擇一個與左側標準圖相同的圖形。

(A) (B) (C) (D)



() 30. 在一棟四層樓公寓中，分別住有 A、B、C、D 等四住房客，並且各自養有不同的寵物，貓、狗、魚和鳥等。已知：(1) A 先生養鳥 (2) B 先生住在三樓 (3) C 先生養狗 (4) 二樓養魚 (5) 三樓養貓 (6) C 先生住四樓。若又知 A 先生住一樓，則從一樓到四樓的住戶順序下列何者正確？

- (A)ADBC
- (B)ABCD
- (C)CDAB
- (D)以上皆非

中原大學推廣教育處辦理桃園市政府勞工學苑

企業 ESG 永續及財務管理培訓班-甄試筆試測驗 **答案** 測驗日期：6/26

試題疑義申請查詢及成績複查請於前致電 03-2651321 許小姐

1	2	3	4	5
D	B	D	D	B
6	7	8	9	10
C	B	D	A	A
11	12	13	14	15
C	D	C	C	C
16	17	18	19	20
A	B	A	D	B
21	22	23	24	25
C	B	A	A	C
26	27	28	29	30
A	B	D	D	C